

Ime in priimek:

Število točk:



Reši račune. Črke pod pravilnimi rezultati po vrsti prepisi na spodnjo črto. Izvedel/a boš, kako se imenuje norveški rt, ki je dolgo časa veljal za najbolj severno točko Evrope.

$$\begin{array}{r} 53718 \\ + 44526 \\ \hline \end{array}$$

$$\begin{array}{r} 81508 \\ - 59276 \\ \hline \end{array}$$

$$\underline{12345 \cdot 6}$$


$$\begin{array}{r} \boxed{\phantom{00000}} \\ + 27916 \\ \hline 99805 \end{array}$$

$$50264 : 4 =$$

$$\underline{326 \cdot 25}$$

$$\begin{array}{r} 65245 \\ - \boxed{\phantom{00000}} \\ \hline 39756 \end{array}$$

$$\begin{array}{r} 17915 \\ + \boxed{\phantom{00000}} \\ \hline 77218 \end{array}$$



Črke prepisuj v tej smeri. →

97244	98244	32332	22232	22332	8020	8150	12567	12566	12565
S	N	E	O	V	E	R	A	D	O


12721	71889	28111	23870	74070	10501	25489	25498	95133	59303
I	K	T	Š	A	J	P	Z	L	P

Rešitev: \_\_\_\_\_



2) Obkroži števila pred pravilnimi trditvami. Polja z obkroženimi števili pobarvaj. Prikazala se ti bo žival, ki jo lahko srečaš med vožnjo po severu Skandinavije.

- 1) Če zmnožku števil 33 in 5 odvezamemo število 7, dobimo število 158.
- 2) Vsota števil 51250 in 31983 znaša 83233.
- 3) Število 75219 ima devet enic, eno desetico, dve stotici in 7 tisočic.
- 4)  $\frac{3}{4}$  od 60 je 45.
- 5) En mesec ima šest tednov.
- 6) Število 84979 je predhodnik števila 84989.
- 7) Vsota števil 38200 in 38100 je večja od razlike istih dveh števil.
- 8) Količnik števil 24 in 6 znaša 144.



3 Pretvori merske enote. Pobarvaj polja s pravilnimi rezultati. Izvedel/a boš, v katerem finskem kraju se nahaja Božičkova vas.

10000 kg = \_\_\_\_\_ t

40 dl = \_\_\_\_\_ cl

5 dni = \_\_\_\_\_ h

100 m = \_\_\_\_\_ dm

5 h 20 min = \_\_\_\_\_ min

14 dm = \_\_\_\_\_ cm

300 dag = \_\_\_\_\_ g


2 hl = \_\_\_\_\_ l

4 Reši naloge. Črke pod pravilnimi rezultati po vrsti prepisi na spodnje črte. Izvedel/a boš, kako še imenujemo Finsko.

A Na severnem polu sonce junija sije cel dan, avgusta pa dve uri manj. Koliko ur sonce sije avgusta?

RAČUN: \_\_\_\_\_

ODGOVOR: \_\_\_\_\_



B Kiruna, Narvik in Tornio so mesta znotraj arktičnega kroga. Prvo ima 17002 prebivalca, drugo 18350 prebivalcev in tretje 21912 prebivalcev. Koliko prebivalcev imata Kiruna in Narvik skupaj?

RAČUN: \_\_\_\_\_

ODGOVOR: \_\_\_\_\_



C V Severni Evropi se pozimi na nebu pojavlja severni sij. Prva fotografija tega pojava je bila posneta leta 1892. Koliko je ta fotografija stara danes?

RAČUN: \_\_\_\_\_

ODGOVOR: \_\_\_\_\_



Č Članice Nordijskega sveta so avtonomna ozemlja Aland, Ferski otoki in Grenlandija ter nordijske države Danska, Finska, Norveška, Švedska in Islandija. Koliko nordijskih držav je v Nordijskem svetu?

RAČUN: \_\_\_\_\_

ODGOVOR: \_\_\_\_\_



D Laponska je pokrajina, ki se razteza čez Finsko, Norveško, Švedsko in Rusijo. V vsaki od teh držav Laponci redijo po 20000 severnih jelenov. Koliko jelenov redijo na Laponskem?

RAČUN: \_\_\_\_\_

ODGOVOR: \_\_\_\_\_



24	60	22	57264	35352	127	2019	5	20000	80000
L	A	J	P	E	Z	P	E	N	R

Finsko imenujemo tudi dežela \_\_\_\_\_.