

Ime in priimek: _____

Število točk: _____



Reši račune. Rezultate vodoravno vpiši v križanko. Števila iz poudarjenega stolpca po vrsti prepisi v prazen stolpec, nato pa jih s pomočjo legende pretvori v črke. Dobil/a boš ime mesta na Siciliji, kjer stoji grško-romanski teater.

1)
$$\begin{array}{r} 24006 \\ + 27817 \\ \hline \end{array}$$

2)
$$\begin{array}{r} 19422 \\ - 14375 \\ \hline \end{array}$$



3)
$$\begin{array}{r} 6316 \\ + \boxed{} \\ \hline 23553 \end{array}$$

4)
$$\begin{array}{r} 90000 \\ - \boxed{} \\ \hline 50438 \end{array}$$

7)
$$\underline{319 \cdot 4}$$

5) $54033 : 3 =$

6) $23254 : 7 =$

8)
$$\underline{214 \cdot 16}$$

1)									
2)									
3)									
4)									
5)									
6)									
7)									
8)									

Število	Črka

LEGENDA:

1 = M

2 = O

3 = I

4 = A

5 = T

6 = R

7 = N

Rešitev: _____



Pretvori merske enote. Pobarvaj polja s pravilnimi rezultati. Prikazalo se ti bo prevozno sredstvo, ki te popelje proti vrhu ognjenika Etna.

$30 \text{ hl} = \underline{\hspace{2cm}} \text{ l}$

$15 \text{ km } 6 \text{ m} = \underline{\hspace{2cm}} \text{ m}$

$40 \text{ dni} = \underline{\hspace{2cm}} \text{ h}$

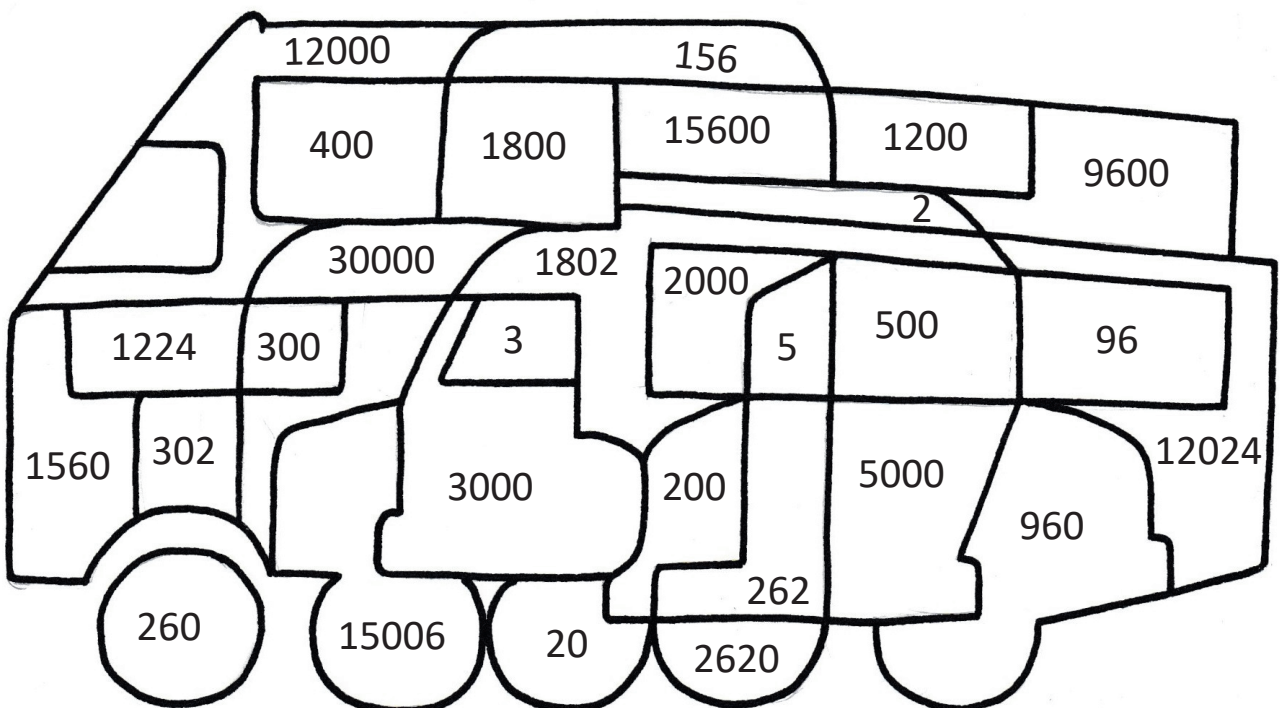
$30 \text{ h } 2 \text{ min} = \underline{\hspace{2cm}} \text{ min}$

$50 \text{ kg} = \underline{\hspace{2cm}} \text{ dag}$

$26 \text{ l } 2 \text{ dl} = \underline{\hspace{2cm}} \text{ dl}$



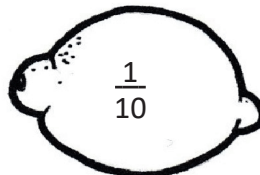
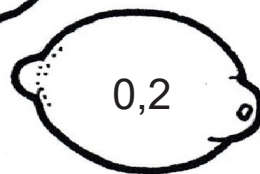

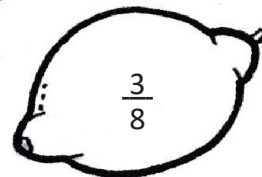

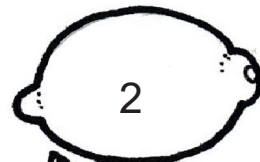
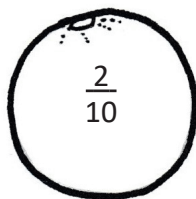
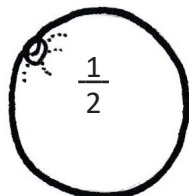
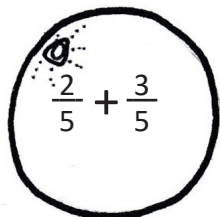
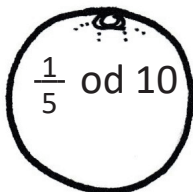
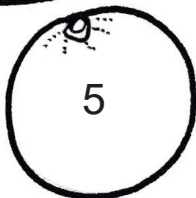
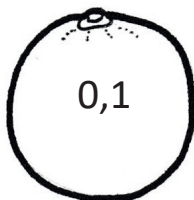
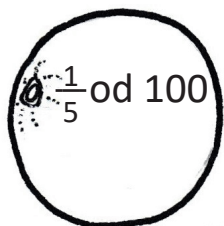
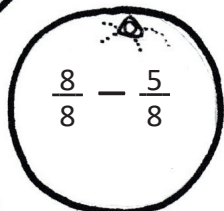
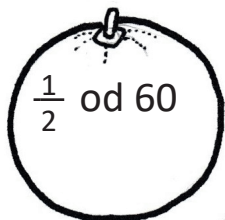
$2 \text{ m}^2 = \underline{\hspace{2cm}} \text{ dm}^2$

$12 \text{ t } 24 \text{ kg} = \underline{\hspace{2cm}} \text{ kg}$





3 Poveži pare. Število, ki ostane brez para, predstavlja tisto stoletje pred našim štejetem, v katerem je bila zgrajena Dolina templjev. Število vpiši v okence poleg templja.



____ . stoletje pred našim štejetem



4 Reši besedilne naloge.

- A Ob 8:00 se odpraviš iz Enne v Catanio; pot ti vzame 1 uro in pol. V Catanii se ustaviš za 4 ure. Potem nadaljuješ pot do Taormine, za kar potrebuješ 1 uro, ogled Taormine pa traja 3 ure. Kdaj se vrneš v Enno, če se vračaš po isti poti in brez postankov?



RAČUN: _____

ODGOVOR: _____

- B V Palermu si lakoto potešiš s pizzo, ki stane 11 evrov, zraven pa naročiš pomarančni sok za 4 evre. V Enni si privoščiš testenine za 7 evrov in spiješ limonado, ki stane 2 evra. V katerem mestu ti ostane več denarja za sladoled? Koliko evrov več ti ostane?



RAČUN: _____

ODGOVOR: _____

- C Iz Palerma se odpraviš na 261 km dolgo pot do Sirakuz, po 4-urnem ogledu znamenitosti pa se vrneš v Palermo. Koliko kilometrov opraviš vsega skupaj, če se vmes trikrat ustaviš za 10-minutni počitek?



RAČUN: _____

ODGOVOR: _____