

Ime in priimek:

Število točk:



Pretvori merske enote in reši račune. Pravilne rezultate poišči v tabeli in jih pobarvaj. Črke nad rezultatom nato po vrsti prepisi na spodnjo črto. Upoštevaj smer prepisovanja. Ugotovil boš ime drobnega koščičastega oreščka.

30 dni + mesec april = _____ dni

7200 dag = _____ kg

13 h + _____ h = 1 dan

_____ kg – 200 kg = 1 t

5 dm 4 cm = _____ mm

$\frac{1}{2}$ dneva = _____ ur

96 h = _____ dni

6 l 4 dl = _____ dl

_____ dni + 250 dni = prestopno leto

Črke prepisuj v tej smeri.

B 720	O 61	P 116	R 8	E 800	I 12
H 47	S 64	Š 54	Č 114	T 60	M 640
A 1200	N 115	D 120	F 1	E 80	C 4
K 3	I 72	L 504	J 540	G 24	A 11

Ime drobnega koščičastega oreščka:



Izračunaj. Rezultate poišči v sliki in jih poveži s črto, kot si sledijo računi. Če boš pravilno izračunal in povezal, boš v sliki spoznal, kje raste ta čudovit orešček, preden pristane na policah trgovine.

Rezultate povezuje v tej smeri.

$$\begin{array}{r} 1) \quad 2435 \\ + \quad 1217 \\ \hline \end{array}$$

$$\begin{array}{r} 2) \quad \boxed{} \\ - \quad 3001 \\ \hline 631 \end{array}$$

$$\begin{array}{r} 3) \quad 10000 \\ - \quad 6338 \\ \hline \end{array}$$

$$\begin{array}{r} 4) \quad 2351 \\ + \quad 4001 \\ \hline \end{array}$$


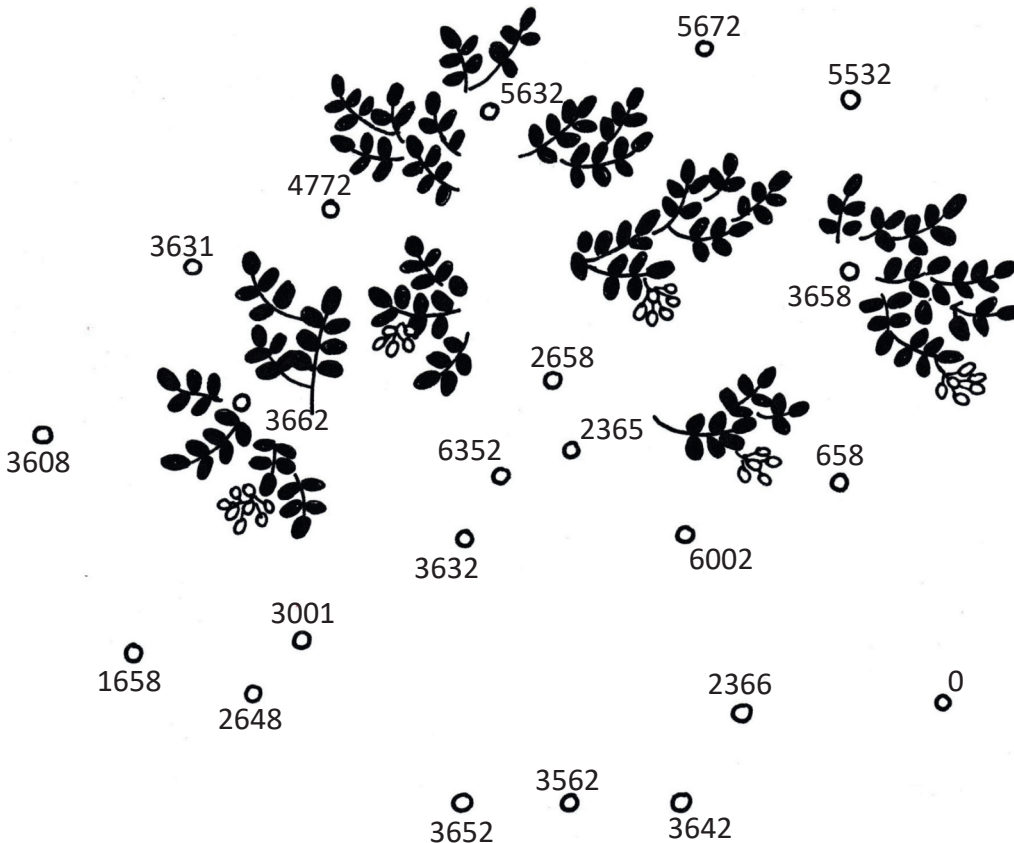
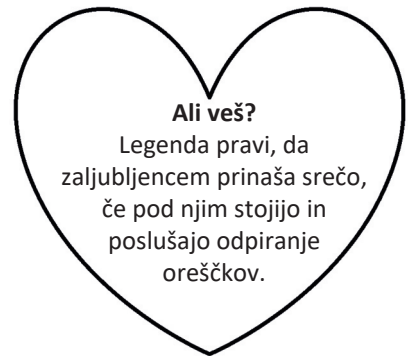
$$\begin{array}{r} 5) \quad \boxed{} \\ - \quad 2143 \\ - \quad 1032 \\ \hline 2457 \end{array}$$

6) $1000 + \boxed{} = 3658$

7) $3605 + 53 = \boxed{}$

8) $6032 - 3667 = \boxed{}$

9) $3562 - 0 = \boxed{}$





3 Izračunaj račune. Črko ob računu prepisi k ustreznemu rezultatu v tabeli. Če si pravilno izračunal, boš spoznal drugo ime za pistacijo.

M _____ : 5 = 7

Č $9 \cdot 6 =$ _____


S $30 :$ _____ $= 6$

J $9 \cdot 8 =$ _____

I $0 \cdot 7 =$ _____

E $4 \cdot 10 =$ _____

O $48 :$ _____ $= 8$



5	35	40	72	6	54	0

orešek.



4 Reši besedilne naloge.

A Svetovni dan pistacije je 26. februar. Koliko časa je minilo od tega dne, če upoštevaš tudi današnji dan?

Odgovor: _____

B V pobiranju pistacije je Miša vedno najhitrejša. Včeraj so jo poskušale prehiteti Saša, Maša in Daša, a jim ni uspelo. Maša je bila sicer v pobiranju hitrejša kot Daša. Saša je bila predzadnja. V kakšnem vrstnem redu so zaključile z obiranjem drevesa pistacije, če pričneš z najhitrejšo.



Odgovor: _____



- C Za pol kilograma pistacije odštejemo približno 6 eurov. Koliko stane 6 kilogramov pistacije?

Račun: _____

Odgovor: _____



- Č Drevo pistacije nam je v letošnjem letu obrodilo 70 kg kremastih oreščkov. Koliko oreščkov pistacije bi nam obrodilo 6 dreves, če predpostavljamo, da nam vsako drevo obrodi enako količino pistacije?

Račun: _____

Odgovor: _____

- D V kvadratke zapiši številke, da bo račun pravilen. Rezultat ti predstavlja starost najstarejšega drevesa pistacije, ki raste v Iranu.

$$\begin{array}{|c|c|c|} \hline 5 & & 5 \\ \hline & 6 & \\ \hline 7 & 0 & 0 \\ \hline \end{array}$$

- E Filip je imel rojstni dan. Imel je jabolčno pito in pistacijevu torto. Vsako je razrezal na 16 kosov.

Ko je vsak otrok pojedel kos sladice, so ostali še 4 kosi jabolčne pite in 5 kosov pistacijeve torte.

Koliko otrok je bilo na praznovanju?

Račun: _____

Odgovor: _____

