

Ime in priimek:

Število točk:



Špela praznuje rojstni dan. Mamica ji bo pripravila sladko presenečenje. Reši račune. Pobarvaj črke nad pravilnimi rešitvami. Črke po vrsti prepisi na črto in izvedel boš za sladko presenečenje, ki čaka Špelo.

$9 + 7 = \square$

$17 - 8 = \square$

$30 - 6 = \square$

$29 - 27 = \square$

$20 + 15 = \square$

$5 + 7 + 6 = \square$

$24 + 9 = \square$

$90 - 19 = \square$

$70 - 36 = \square$

$74 + 17 = \square$

$45 + 54 = \square$

$38 + 38 = \square$

$90 - 80 = \square$

$42 - 17 = \square$

$74 - 47 = \square$



Črke prepisuj v tej smeri. →

Č 42	S 27	K 15	L 91	A 35	B 23	Š 22	D 34
O 76	L 16	V 67	E 9	P 81	D 24	I 98	N 2
A 18	T 25	O 99	K 15	R 33	T 71	Č 44	A 10

Presenečenje za Špelo bo

\_\_\_\_\_.



Spremeni mere. Pobarvaj polja s pravilnimi rešitvami. Prikazalo se ti bo darilo za Špelo.

$$30 \text{ dm} = \underline{\hspace{2cm}} \text{ m}$$

$$1 \text{ m } 6 \text{ dm} = \underline{\hspace{2cm}} \text{ dm}$$

$$9 \text{ m} = \underline{\hspace{2cm}} \text{ dm}$$

$$15 \text{ dm} + 5 \text{ dm} = \underline{\hspace{2cm}} \text{ m}$$

$$70 \text{ cm} = \underline{\hspace{2cm}} \text{ dm}$$

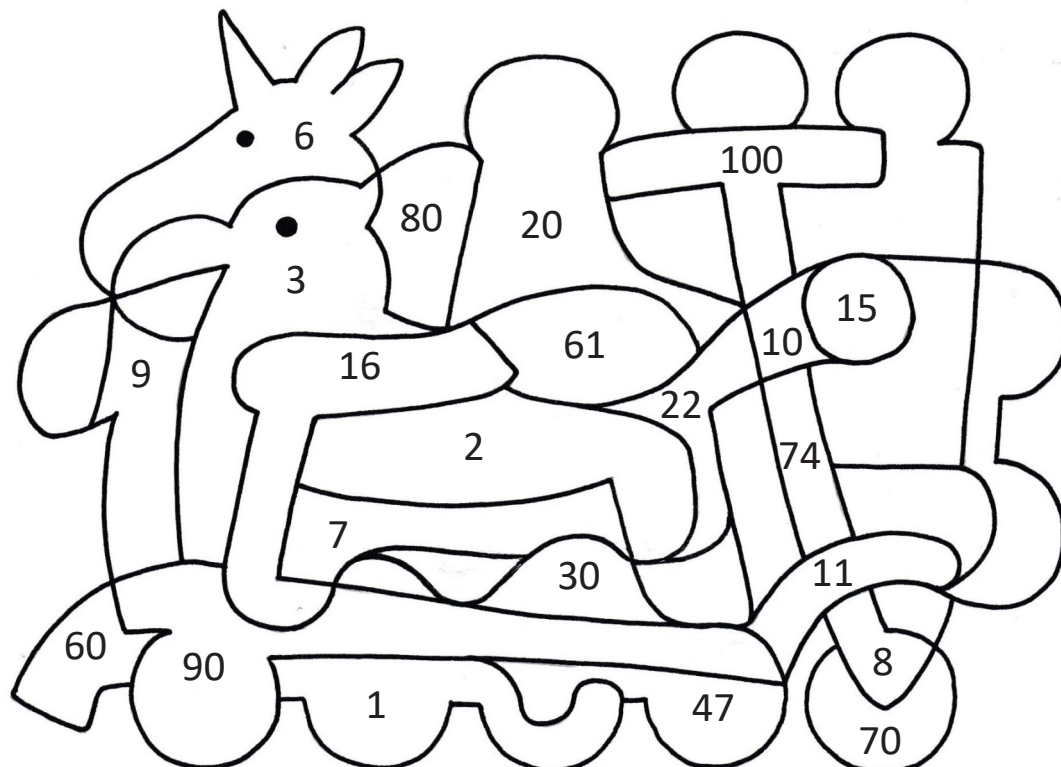
$$4 \text{ l } 7 \text{ dl} = \underline{\hspace{2cm}} \text{ dl}$$

$$8 \text{ l} = \underline{\hspace{2cm}} \text{ dl}$$

$$26 \text{ l} + 4 \text{ l} = \underline{\hspace{2cm}} \text{ l}$$


$$87 \text{ l} - 27 \text{ l} = \underline{\hspace{2cm}} \text{ l}$$

$$5 \text{ dl} + 5 \text{ dl} = \underline{\hspace{2cm}} \text{ l}$$






3 Zmnoži. Račune v svečkah poveži s pravilnimi rešitvami v bonbonih.  
Dopolni poved pod torto.



Špela je stara \_\_\_\_ let.



4 Iz zastavic prepiši vsa števila na spodnjo črto. Števila nato uredi po velikosti od najmanjšega do največjega.



Prepiši: \_\_\_\_\_

Uredi: \_\_\_\_\_



Reši naloge. Obkroži tiste klobučke, v katerih najdeš pravilne rezultate.

- A Špelino darilo je stalo 47 evrov. Očka ga je plačal z bankovcem za 100 evrov.

Koliko denarja je prodajalka vrnila očku?

Račun: \_\_\_\_\_



- B Špelin brat Jure je za praznovanje napihnil veliko balonov: 3 rdeče, 8 modrih in 6 zelenih. Napihnil bo še rumene.

Koliko rumenih balonov mora napihniti, da bo vseh balonov skupaj 20?

Račun: \_\_\_\_\_



- C Špelino torto so razrezali na 16 kosov. Prvi dan so pojedli 8 kosov. Drugo jutro pa sta Špela in Jure pojedla še vsak po dva kosa.

Koliko kosov torte je ostalo za kosilo?

Račun: \_\_\_\_\_

