



Izračunaj račune. Pobarvaj črke v poljih s pravilnimi rezultati. Črke po vrsti prepisi v prazna okenca spodaj in izvedel boš, kje je bila Anja med počitnicami.

$35 - 3 = 32$ (1)

$6 + 21 = 27$ (1)

$48 + 2 = 50$ (1)

$59 - 7 = 52$ (1)

$68 - 3 = 65$ (1)

$76 + 4 = 80$ (1)

$7 + 41 = 48$ (1)

$86 - 2 = 84$ (1)

$96 - 1 = 95$ (1)

$82 + 5 = 87$ (1)

$8 + 8 = 16$ (1)

$90 - 10 = 80$ (1)

$79 - 9 = 70$ (1)

$74 - 2 = 72$ (1)

Črke prepisuj v tej smeri. →

13 N	87 A	3 V	16 K	86 A
11 G	12 M	6 F	15 E	68 R
1 I	58 T	51 O	2 Š	31 Z
22 D	59 K	9 I	18 M	69 I
91 O	14 R	7 S	41 J	19 U
17 L	74 A	75 J	4 V	76 I
77 A	10 P	90 A	41 O	8 N
61 N	21 S	5 I	70 K	88 A

14t = RAČUNI



Anja je bila med počitnicami


V A F R I Š K I

S A V A N I

16

2 Številom, ki so zapisana z besedo določi predhodnike ali naslednike. Pobarvaj polja s pravilnimi števili in opici boš pokazal pot do šopa banan.

- šestnajst (ena pred) ①
- osemindvajset (ena za) ①
- sedemintrideset (ena za) ①
- šestdeset (ena pred) ①
- štiriinštirideset (ena pred) ①
- petinšestdeset (ena za) ①
- enaintrideset (ena pred) ①
- sedemdeset (ena za) ①
- sedeminsedemdeset (ena pred) ①
- devetindevetdeset (ena za) ①

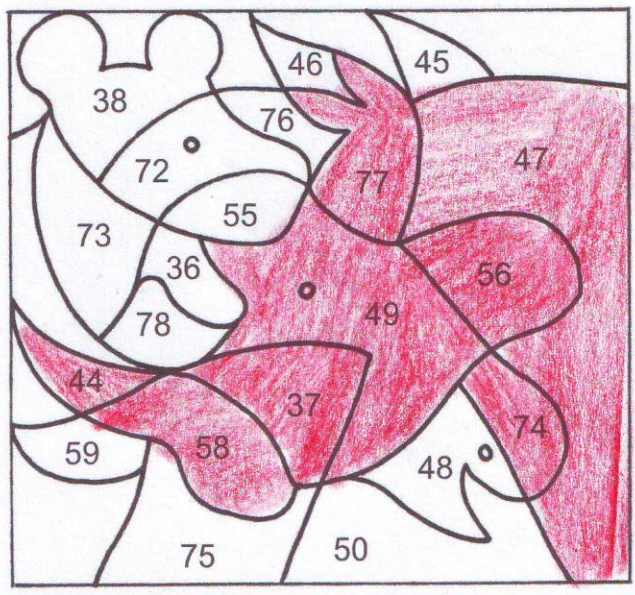


POT 1 točka

11

3 Ugotovi, v kakšnem zaporedju si sledijo števila. Na črto zapiši manjkajoče število. Števila nato poišči na sliki in pobarvaj polja z dobljenimi števili.

- ① 39, 37, 35
- ① 49, 51, 53
- ① 71, 74, 77, 80
- ① 60, 58, 56, 54
- ① 50, 47, 44, 41



SLIKA = 17

6



Izračunaj račune. Dobljene rezultate uredi po velikosti od največjega do najmanjšega in jih po vrsti poveži. Dobil boš sliko še ene živali, ki živi v Afriki.

$8 + 6 =$ 14 1

$30 - 5 =$ 25 1

$36 + 3 =$ 39 1

$41 + 9 =$ 50 1

$17 - 8 =$ 9 1

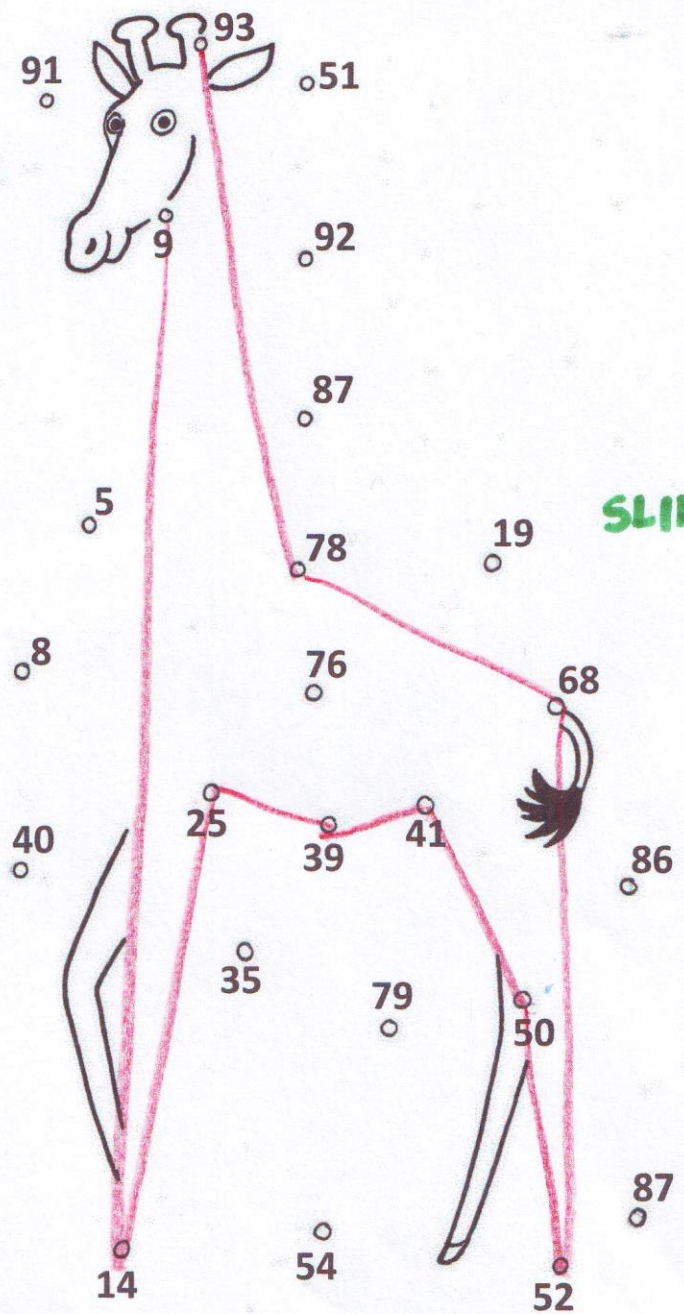
$46 - 5 =$ 41 1

$59 - 7 =$ 52 1

$73 + 5 =$ 78 1

$64 + 4 =$ 68 1

$99 - 6 =$ 93 1



SLIKA = 1t

Po velikosti urejeni rezultati:

93, 78, 68, 52, 50, 41, 39, 25, 14, 9

↑ 1t

5

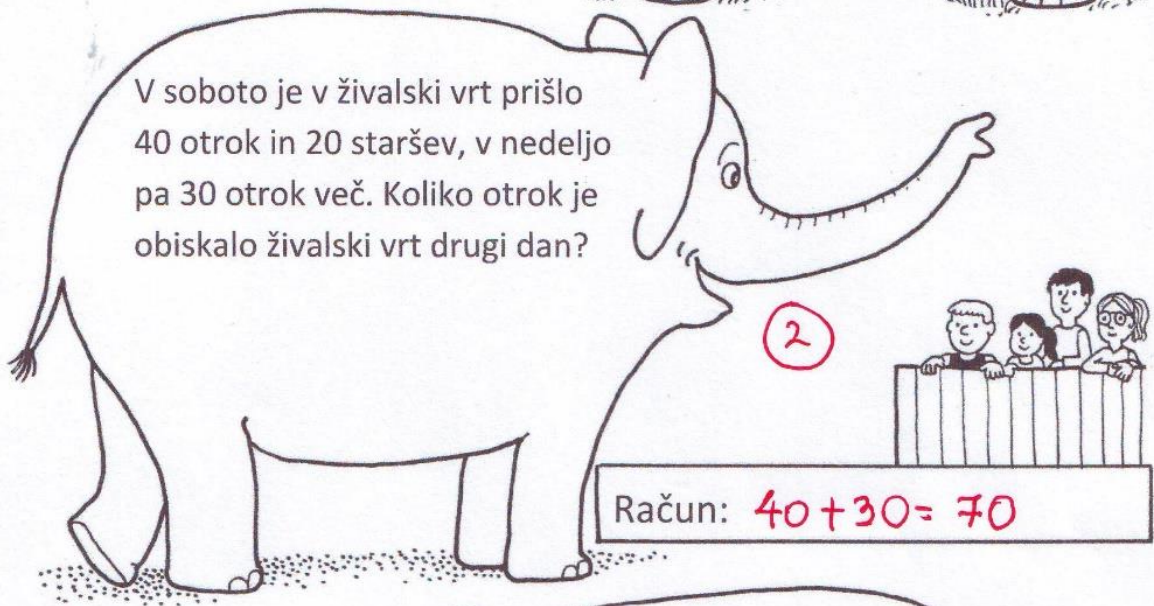
Reši naloge. Pobarvaj jabolka s pravilnimi rezultati.

2



Slon v savani je zjutraj pojedel 55 kg banan in 5 kg melon. Zvečer je pojedel še 20 kg listja. Koliko kilogramov hrane je pojedel v enem dnevu?


Račun: $55\text{kg} + 5\text{kg} + 20\text{kg} = 80\text{kg}$



V soboto je v živalski vrt prišlo 40 otrok in 20 staršev, v nedeljo pa 30 otrok več. Koliko otrok je obiskalo živalski vrt drugi dan?

2

Račun: $40 + 30 = 70$



Oskrbnik v živalskem vrtu je slonu prinesel 15 lubenic, 36 jabolk in 20 melon. Ko je slon pojedel 9 lubenic, vsa jabolka in vse melone, mu je oskrbnik prinesel še 6 lubenic. Koliko lubenic bo lahko slon še pojedel?

3

Račun: $15 - 9 = 6$ $6 + 6 = 12$



Pobarvana jabolka 1 t

8

