

Ime in priimek:


Število točk:



1 Are so vrsta papig. Zelo rade se posladkajo z oreščki. Poveži vsako papigo z njenim priboljškom.



5D 2E




6D 3E




4D 9E


2D 5E



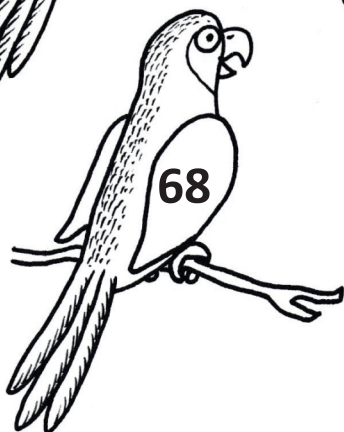
3D 7E



6D 8E



3D 6E




1D 6E





Izračunaj spodnje račune. Besede napisane na palmah zapiši pod pravi rezultat. Sestaviš boš uganko.



$48 + 1 = \underline{\quad}$

$37 - 3 = \underline{\quad}$

$48 - 5 = \underline{\quad}$

$9 + 7 = \underline{\quad}$

$60 + 1 = \underline{\quad}$

$8 + 4 = \underline{\quad}$

$29 - 8 = \underline{\quad}$

$63 + 5 = \underline{\quad}$

$59 - 7 = \underline{\quad}$

$30 - 5 = \underline{\quad}$

$13 - 6 = \underline{\quad}$

$55 + 4 = \underline{\quad}$

$40 - 3 = \underline{\quad}$

Rešitev uganke:



Izračunaj. Pobarvaj polja s pravilnimi rezultati. Če boš pravilno izračunal in pobarval rezultate, se bo prikazala slika.

$63 + \square = 68$

$9 + \square = 18$

$44 - \square = 42$

$69 - \square = 68$

$\square + 21 = 27$

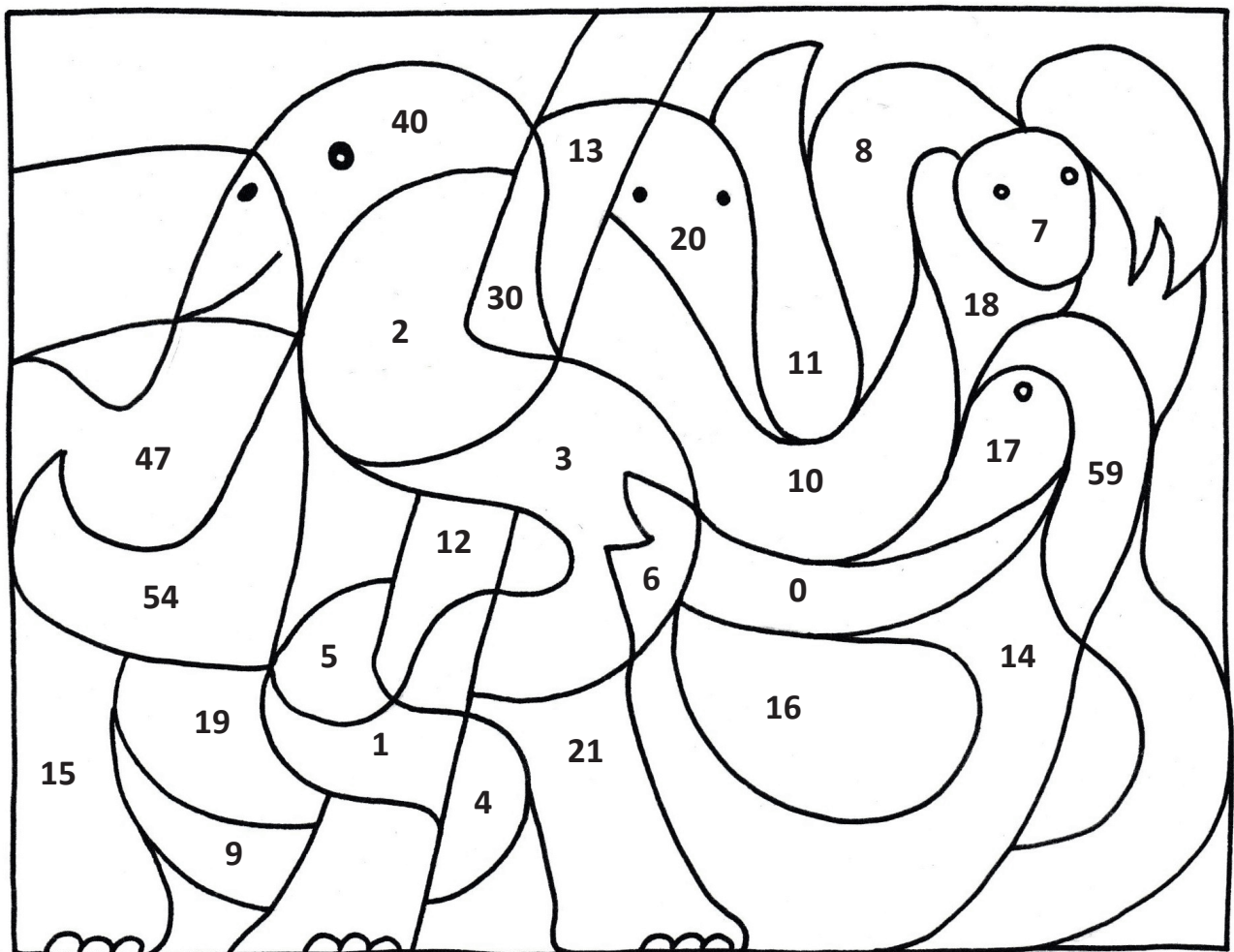
$\square + 36 = 39$

$60 + \square = 70$

$51 + \square = 58$

$57 - \square = 53$

$70 - \square = 62$




Na sliki je \_\_\_\_\_.



4 Preberi in reši besedilne naloge.

- A Želva je zvalila jajca med listje. Iz njih je prilezlo 68 želvic. Plenilci so jih polovili 7. Koliko želvic je ostalo živih?

RAČUN: \_\_\_\_\_



- B Na eni kokosovi palmi je zraslo 65 orehov. Obiralci so nabrali 45 zrelih orehov. Opice so jih pobrale še 10. Koliko orehov je ostalo na palmi?

RAČUN: \_\_\_\_\_



- C Opica je plezala po palmi. Najprej je preplezala 21 metrov, po kratkem počitku je splezala še naslednjih 7 metrov. Bila je čisto na vrhu drevesa. Koliko je visoka palma?

RAČUN: \_\_\_\_\_

