

Ime in priimek:

Število točk:



1 Izračunaj račune. Pobarvaj črke v poljih s pravilnimi rezultati. Črke po vrsti prepisi v prazna okenca spodaj in izvedel boš, kje je bila Anja med počitnicami.

35 - _____ = 32

_____ + 21 = 27

48 + _____ = 50

_____ - 7 = 52

_____ - 3 = 65

76 + _____ = 80

_____ + 41 = 48

_____ - 2 = 84

96 - _____ = 95

82 + _____ = 87

_____ + 8 = 16

_____ - 10 = 80

79 - _____ = 70

_____ - 2 = 72

Črke prepisuj v tej smeri. →

13 N	87 A	3 V	16 K	86 A
11 G	12 M	6 F	15 E	68 R
1 I	58 T	51 O	2 Š	31 Z
22 D	59 K	9 I	18 M	69 I
91 O	14 R	7 S	41 J	19 U
17 L	74 A	75 J	4 V	76 I
77 A	10 P	90 A	41 O	8 N
61 N	21 S	5 I	70 K	88 A




Anja je bila med počitnicami



Številom, ki so zapisana z besedo določi predhodnike ali naslednike.

Pobarvaj polja s pravilnimi števili in opici boš pokazal pot do šopa banan.

- šestnajst (ena pred)
- osemindvajset (ena za)
- sedemintrideset (ena za)
- šestdeset (ena pred)
- štiriinštirideset (ena pred)
- petinšestdeset (ena za)
- enaintrideset (ena pred)
- sedemdeset (ena za)
- sedeminsedemdeset (ena pred)
- devetindevetdeset (ena za)



Ugotovi, v kakšnem zaporedju si sledijo števila. Na črto zapiši manjkajoče število. Števila nato poišči na sliki in pobarvaj polja z dobljenimi števili.

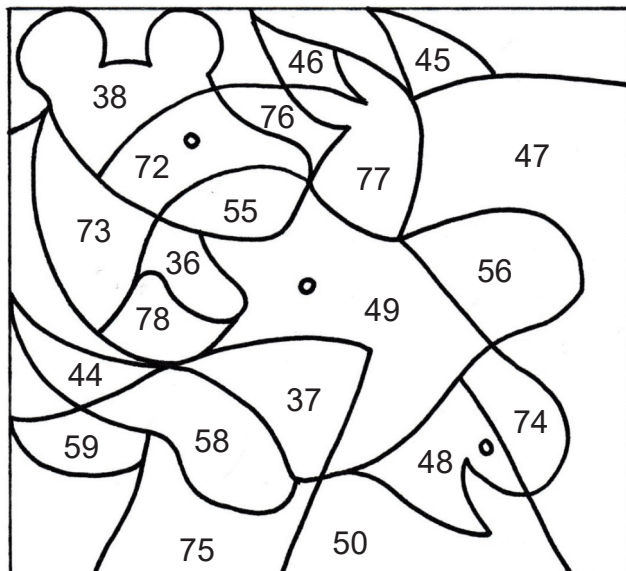
39, _____, 35

_____, 51, 53

71, _____, _____, 80

60, _____, _____, 54

50, _____, _____, 41





Izračunaj račune. Dobljene rezultate uredi po velikosti od največjega do najmanjšega in jih po vrsti poveži. Dobil boš sliko še ene živali, ki živi v Afriki.

$8 + 6 =$

$30 - 5 =$

$36 + 3 =$

$41 + 9 =$

$17 - 8 =$

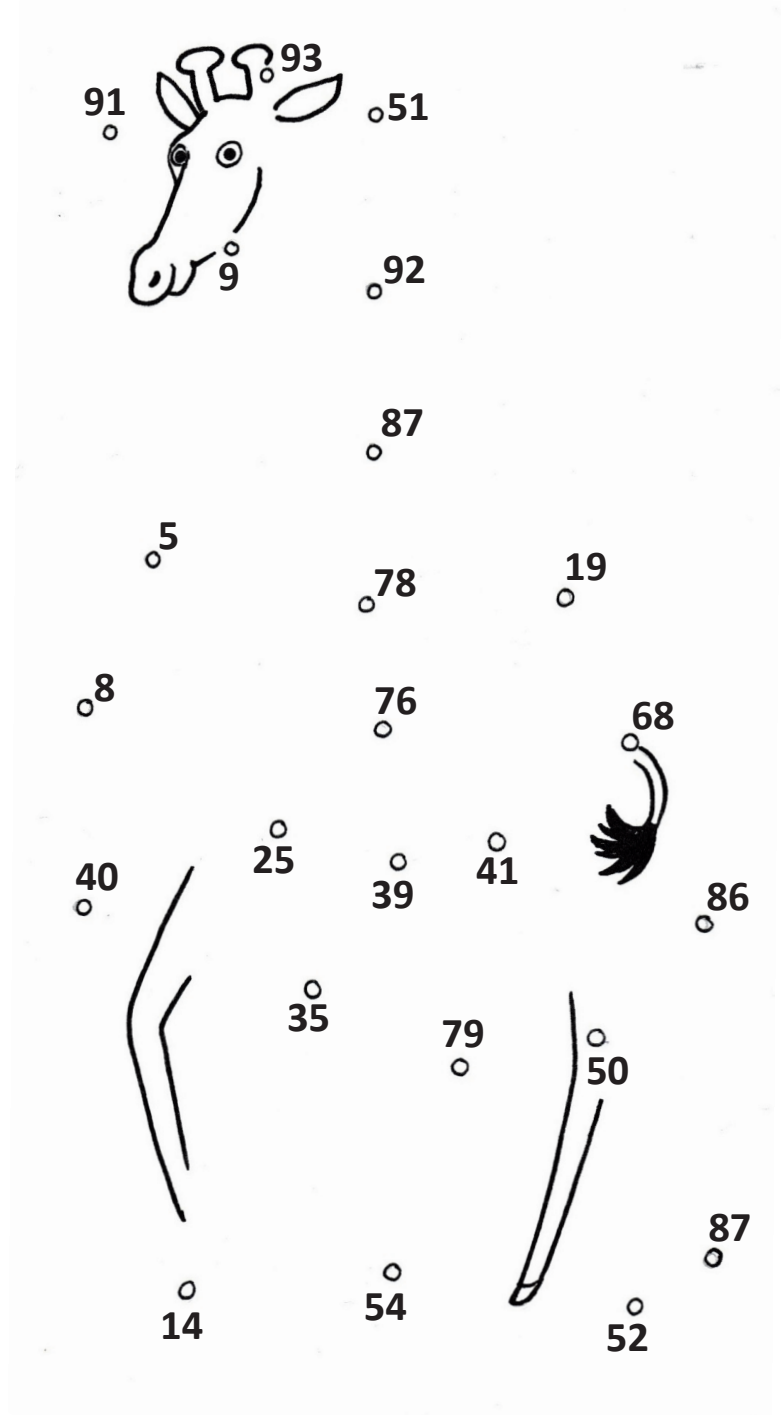
$46 - 5 =$

$59 - 7 =$

$73 + 5 =$

$64 + 4 =$

$99 - 6 =$



Po velikosti urejeni rezultati:

____, _____, _____, _____, _____, _____, _____, _____, _____




5

Reši naloge. Pobarvaj jabolka s pravilnimi rezultati.




Slon v savani je zjutraj pojedel 55 kg banan in 5 kg melon. Zvečer je pojedel še 20 kg listja. Koliko kilogramov hrane je pojedel v enem dnevu?

Račun:



V soboto je v živalski vrt prišlo 40 otrok in 20 staršev, v nedeljo pa 30 otrok več. Koliko otrok je obiskalo živalski vrt drugi dan?

Račun:



Oskrbnik v živalskem vrtu je slonu prinesel 15 lubenic, 36 jabolok in 20 melon. Ko je slon pojedel 9 lubenic, vsa jabolka in vse melone, mu je oskrbnik prinesel še 6 lubenic. Koliko lubenic bo lahko slon še pojedel?

Račun:

- 
- 
- 
- 
- 
- 
- 