

Ime in priimek:

Število točk:



1 Izračunaj račune. Pobarvaj polja s pravilnimi rezultati in odkril boš znano osebo iz slovenske zgodovine.

$$\begin{array}{r} 333 \\ + 316 \\ \hline \end{array}$$

$$\begin{array}{r} 517 \\ + 102 \\ \hline \end{array}$$

$$\begin{array}{r} 775 \\ - 425 \\ \hline \end{array}$$

$$\begin{array}{r} 391 \\ - 135 \\ \hline \end{array}$$

$$\begin{array}{r} 459 \\ + 419 \\ \hline \end{array}$$

$$\begin{array}{r} 541 \\ - 240 \\ \hline \end{array}$$

$$\begin{array}{r} 640 \\ + 66 \\ \hline \end{array}$$

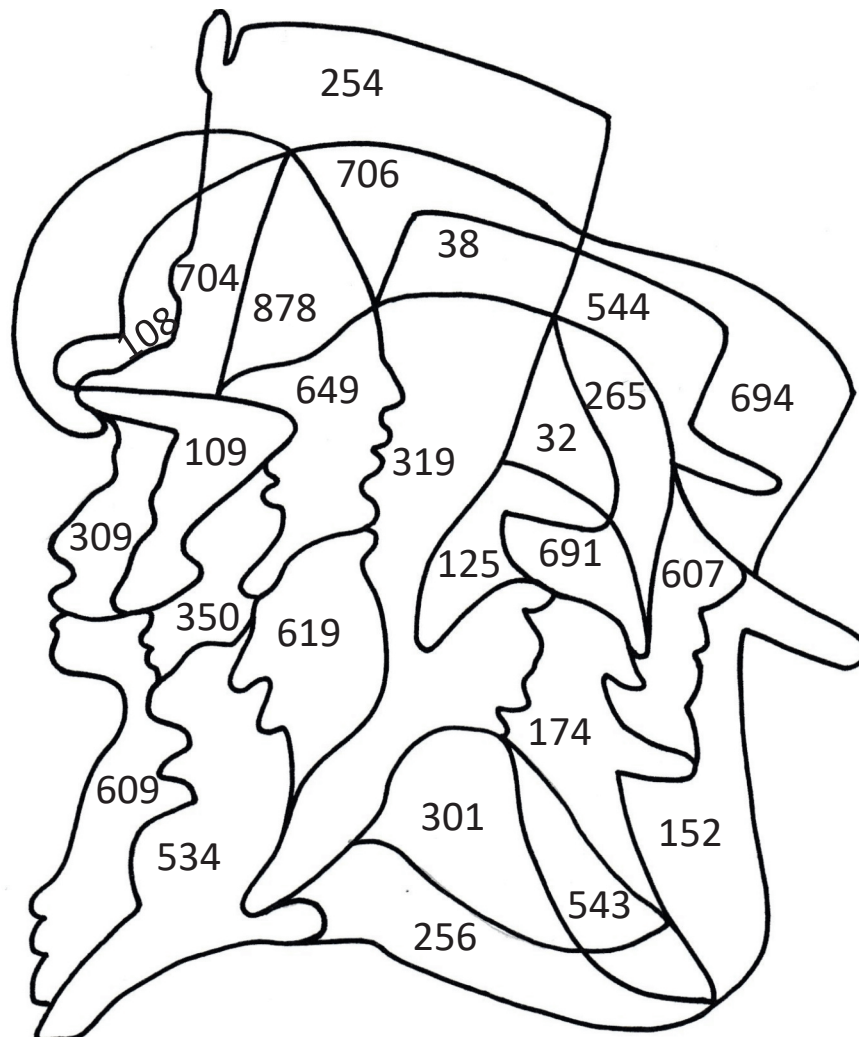
$$\begin{array}{r} 166 \\ + 368 \\ \hline \end{array}$$

$$\begin{array}{r} 257 \\ - 219 \\ \hline \end{array}$$

$$\begin{array}{r} 417 \\ - 98 \\ \hline \end{array}$$

$$\begin{array}{r} 301 \\ - \boxed{} \\ \hline 176 \end{array}$$

$$\begin{array}{r} 205 \\ + \boxed{} \\ \hline 314 \end{array}$$





Znameniti Slovenec je bil tudi Edvard Rusjan. Izračunaj račune. Po vrsti poveži rezultate. Izvedel boš s čim se je ukvarjal.

1) $4 \cdot 8 =$

7) $\cdot 6 = 18$

2) $2 \cdot 9 =$

8) $7 \cdot 9 =$

3) $42 : 7 =$

9) $5 \cdot$ $= 50$

4) $54 : 6 =$

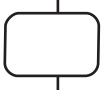
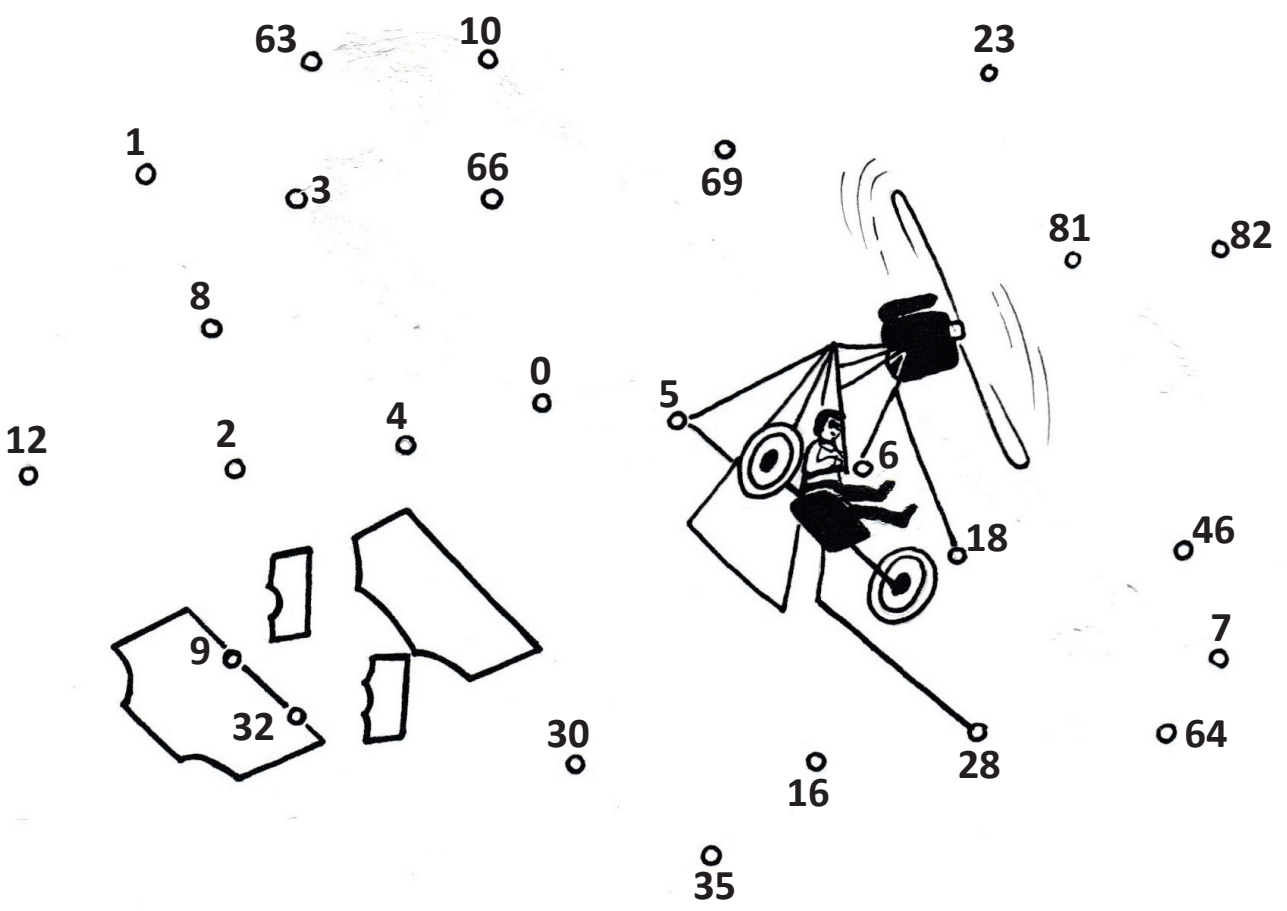
10) $49 :$ $= 7$

5) $40 : 8 =$

11) $: 8 = 8$

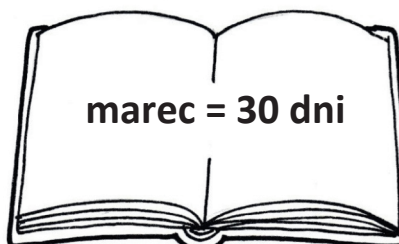

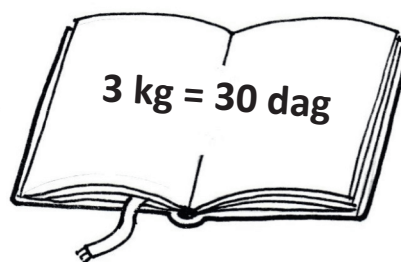
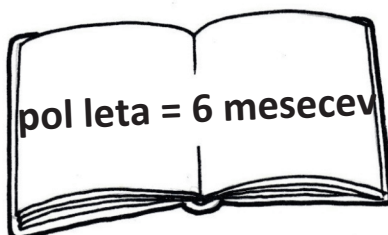
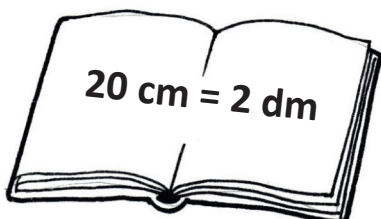
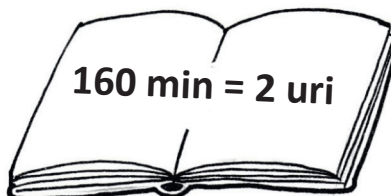
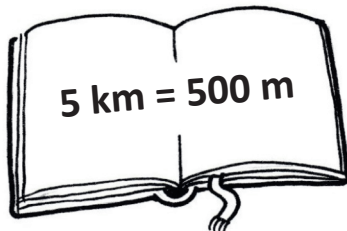
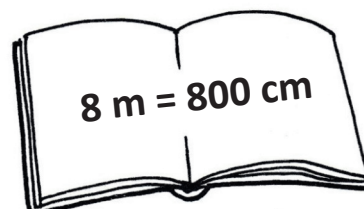
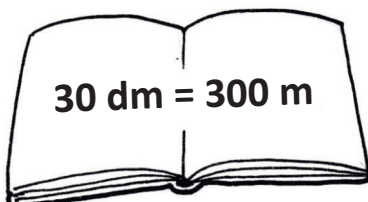
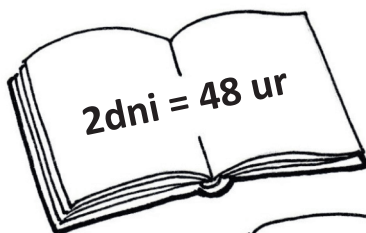
6) $2 \cdot 0 =$

12) $: 7 = 4$



3

Primož Trubar je avtor prvih tiskanih knjig v slovenskem jeziku. Na spodnjih knjigah so napisane in pretvorjene merske enote. Med njimi je ŠEST napačnih. Poišči jih in jih prečrtaj.





4 Jakob Aljaž je bil župnik ter zelo zaveden Slovenec. Zelo rad je hodil v hribe, zato je kupil vrh Triglava in nanj postavil stolp. Katerega leta se je to zgodilo izveš tako, da rešiš naloge. Rezultate po vrsti prepíše na črtice v zastavico na vrhu stolpa.

A Jaka je imel za tridnevni izlet v nahrbtniku poleg sendvičev še 10 čokoladic. Prvi dan je pojedel dvakrat po dve čokoladici, drugi dan 3 čokoladice in tretji dan 2 čokoladici. Koliko čokoladic mu je ostalo?

Račun: _____

B Janez in Mitja sta odšla na pohod na Triglav. Iz doline Vrat sta krenila ob 7. uri, na vrh pa sta prišla ob treh popoldan. Koliko ur sta hodila?

Račun: _____

C Sveti Jošt nad Kranjem leži 845 m nad morjem, koča pri slapu Peričniku pa na višini 750 m nad morjem. Kolikšna je njuna višinska razlika?

Račun: _____

