

Ime in priimek:

Število točk:

Učenci 5. razreda so bili nad skupnimi počitnicami tako navdušeni, da so še enkrat najeli hišico in v njej preživeli podaljšan konec tedna. Zabavaj se skupaj z njimi in reši naloge. Srečno!



Lea se je zaljubila v fanta iz sosednje hišice in mu v svoji sobi napisala ljubezensko pismo. Reši račune in pobarvaj rezultate. Ugotovil/a boš, kaj mu je zraven narisala.

$$88 + \underline{\quad} = 100$$

$$44 + 14 = \underline{\quad}$$

$$62 - 16 = \underline{\quad}$$

$$59 - 15 = \underline{\quad}$$

$$25 + 8 = \underline{\quad}$$


$$83 - 9 = \underline{\quad}$$

$$\underline{\quad} - 15 = 50$$

$$\underline{\quad} + 26 = 40$$

$$84 + \underline{\quad} = 99$$

$$53 - \underline{\quad} = 22$$





Elma in Sara sta v kuhinji pripravili odlično mesno lasanjo. Reši račune, pobarvaj rezultate in obkroži ustrezno črko. Ugotovil/a boš, kaj se je z lasanjo na koncu zgodilo.

$9 \cdot 4 = \underline{\hspace{2cm}}$

$4 \cdot 3 = \underline{\hspace{2cm}}$

$6 \cdot 5 = \underline{\hspace{2cm}}$

$10 \cdot 2 = \underline{\hspace{2cm}}$

$8 \cdot 3 = \underline{\hspace{2cm}}$

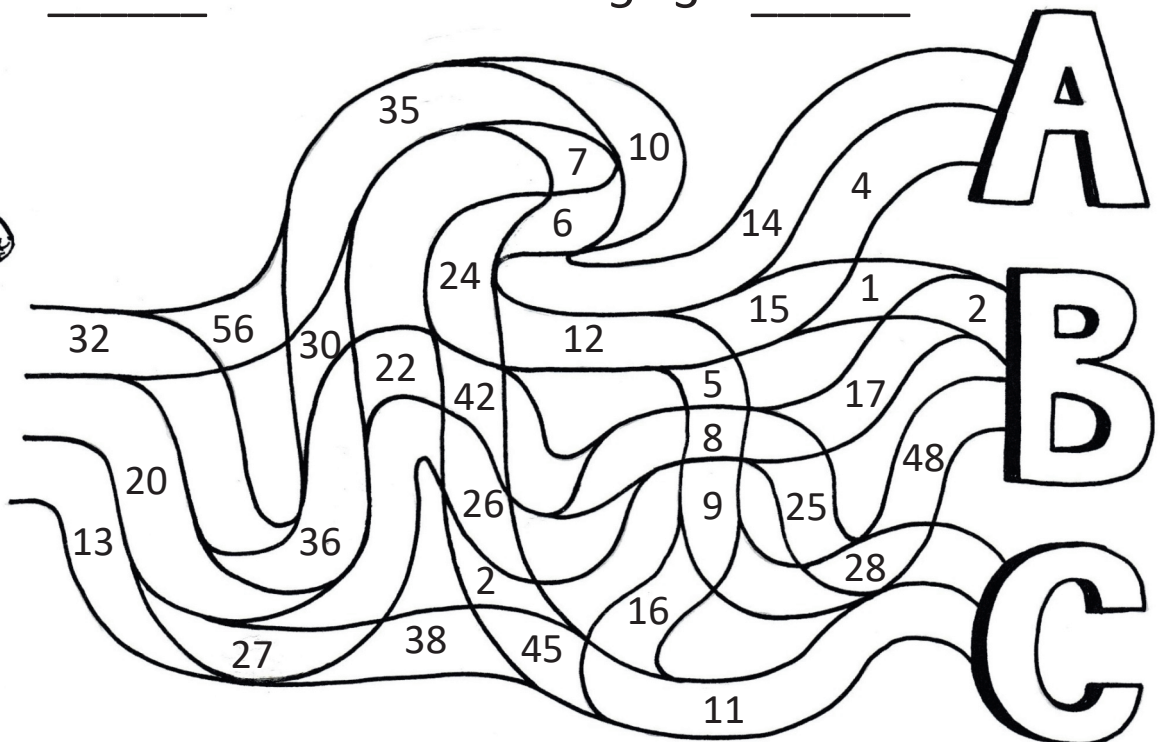
$2 \cdot 5 = \underline{\hspace{2cm}}$

$3 \cdot 2 = \underline{\hspace{2cm}}$

$1 \cdot 4 = \underline{\hspace{2cm}}$

$7 \cdot 5 = \underline{\hspace{2cm}}$

$5 \cdot 3 = \underline{\hspace{2cm}}$



- A) Dekleti sta med peko čvekali po telefonu; lasanja se je zažgala.
- B) Fantje so naskrivaj vse pojedli.
- C) Ukradel jo je sosedov kuža.



3

Teo je v kopalnici po nesreči pohodil zobno pasto, ki se je razmazala po ploščicah. Pretvori merske enote in med rezultati poišči največjega. Zapiši ga. Ugotovil/a boš, koliko ploščic je moral očistiti Teo.

$$3 \text{ m} = \underline{\quad\quad} \text{ dm}$$

$$80 \text{ dl} = \underline{\quad\quad} \text{ l}$$

$$14 \text{ dni} = \underline{\quad\quad} \text{ tednov}$$

$$90 \text{ dm} = \underline{\quad\quad} \text{ m}$$

$$5 \text{ l} = \underline{\quad\quad} \text{ dl}$$

$$24 \text{ h} = \underline{\quad\quad} \text{ dni}$$

$$1 \text{ teden} = \underline{\quad\quad} \text{ dni}$$

$$6 \text{ m} = \underline{\quad\quad} \text{ dm}$$



Teo je moral očistiti _____ ploščic.

4

Gašper in Matija sta med igranjem skrivalnic v kleti prekucnila skladovnico drv. Drva sta zložila nazaj v pet manjših skladovnic. Preštej in zapiši, koliko drv je bilo v vsaki od njih.

$$25, 27, \underline{\quad\quad}, \underline{\quad\quad}, \underline{\quad\quad}$$

$$85, 83, \underline{\quad\quad}, \underline{\quad\quad}, \underline{\quad\quad}$$

$$85, 75, \underline{\quad\quad}, \underline{\quad\quad}, \underline{\quad\quad}$$

$$15, 35, \underline{\quad\quad}, \underline{\quad\quad}, \underline{\quad\quad}$$

$$38, 48, \underline{\quad\quad}, \underline{\quad\quad}, \underline{\quad\quad}$$





Vseh šest učencev je po večerji sedelo na terasi.



A Koliko nog je bingljalo s terase?

Račun: _____

Odgovor: _____

B Matija je spil tri kozarce kokakole. Lea je spila dvakrat več kozarcev kot Matija. Koliko kozarcev kokakole sta spila oba skupaj?

Račun: _____


Odgovor: _____



C Sara in Teo sta odigrala tri partije šaha, potem pa še dvakrat igro Upss! Ena. Koliko iger sta odigrala skupaj?

Račun: _____

Odgovor: _____



Č Elma je Gašperja zabavala s pravljicami za lahko noč. Povedala mu je tri pravljice o palčkih, tri pravljice o princeskah in tri pravljice, v katerih so nastopali samorogi. Koliko pravljic je slišal Gašper?

Račun: _____

Odgovor: _____

