


Ime in priimek:

Število točk:



1 Poveži skodelice in vrečke za čaj s črto.

Na vsak krožnik ali čajno vrečko vpiši manjkajoče število.





Če boš pravilno izračunal in vpisal črke v prazna okenca ob računih, boš dobil imena, ki se pojavijo ob omembi besede bolezen.

$23 + 4 = \underline{\quad\quad} \quad \square$

$36 - 3 = \underline{\quad\quad} \quad \square$

$54 + 5 = \underline{\quad\quad} \quad \square$

$41 + 3 = \underline{\quad\quad} \quad \square$

$67 - 6 = \underline{\quad\quad} \quad \square$

$19 - 7 = \underline{\quad\quad} \quad \square$

$8 + 7 = \underline{\quad\quad} \quad \square$

$12 - 4 = \underline{\quad\quad} \quad \square$

$59 - 4 = \underline{\quad\quad} \quad \square$

$67 - 4 = \underline{\quad\quad} \quad \square$

$31 + 8 = \underline{\quad\quad} \quad \square$

$52 + 7 = \underline{\quad\quad} \quad \square$

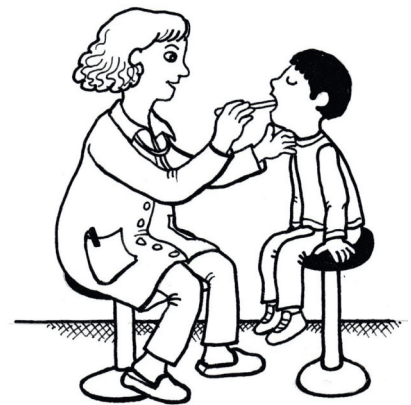
$60 - 5 = \underline{\quad\quad} \quad \square$

$39 - 4 = \underline{\quad\quad} \quad \square$

$51 + 4 = \underline{\quad\quad} \quad \square$

$70 - 9 = \underline{\quad\quad} \quad \square$

$47 - 6 = \underline{\quad\quad} \quad \square$




P	S	R	K	J	I	Š	E	A	L	U	C	T
61	27	59	12	39	33	8	55	15	63	44	35	41





Izračunaj. Besede napisane na stekleničkah zapiši pod pravi rezultat. Sestavi boš uganko.



$$41 + \square = 48$$

$$\square + 40 = 48$$

$$51 + \square = 52$$

$$68 - \square = 62$$


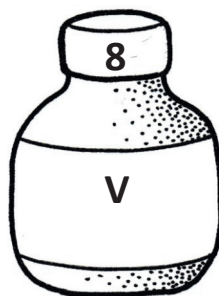

$$\square + 23 = 25$$

$$49 - \square = 40$$

$$39 - \square = 36$$

$$70 - \square = 65$$

$$32 + \square = 36$$





4 Preberi in reši besedilne naloge.

- A Miha je bil bolan 2 tedna in 3 dni.
Koliko dni je bil bolan?

Račun: _____



- B Mojca je na praznovanje rojstnega dne povabila 14 sošolcev.
Prišlo jih je samo 8, ker so bili ostali bolni. Koliko sošolk in sošolcev
je bilo bolnih?

Račun: _____



- C V zdravniški čakalnici je bila gneča. Prvo uro je prišlo 16 pacientov.
Zdravnik jih je 5 pregledal in ti so odšli domov. Toda čez 1 uro je
prišlo 8 novih pacientov. Koliko pacientov je bilo po 2 urah v
čakalnici?

Račun: _____

