
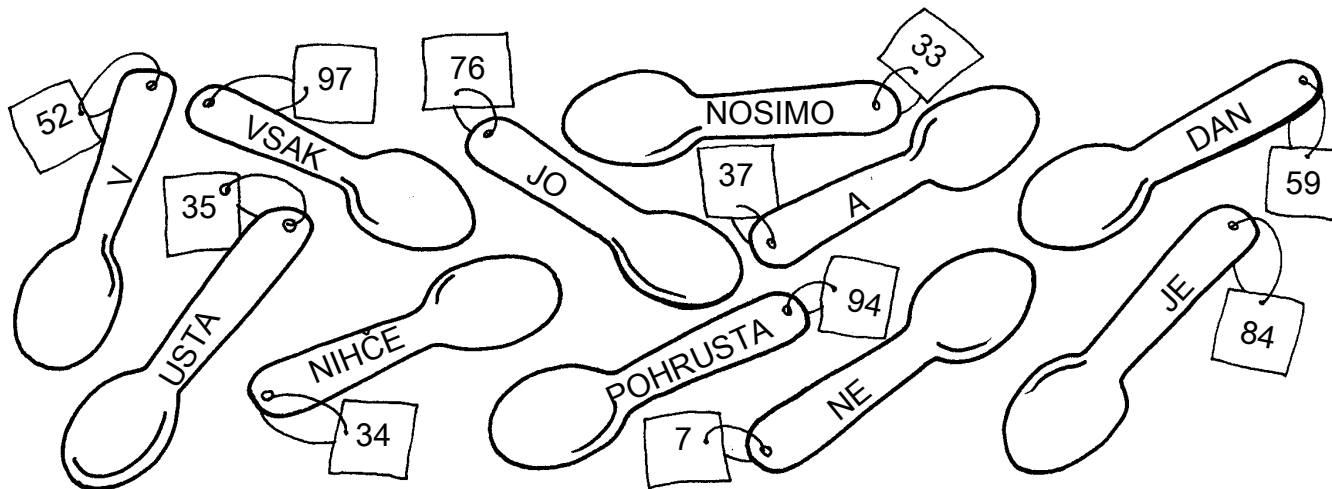


Ime in priimek:

Šola:

Število točk:

 Izračunaj. Besede, napisane na žlicah, zapiši pod pravi rezultat. Sestavi boš uganko.



$$\begin{array}{r} 51 + 46 = \\ \hline \end{array}$$

$$\begin{array}{r} 35 + 24 = \\ \hline \end{array}$$

$$\begin{array}{r} 97 - 64 = \\ \hline \end{array}$$

$$\begin{array}{r} 42 + 34 = \\ \hline \end{array}$$

$$\begin{array}{r} 75 - 23 = \\ \hline \end{array}$$

$$\begin{array}{r} 84 - 49 = \\ \hline \end{array}$$

$$\begin{array}{r} 35 + 2 = \\ \hline \end{array}$$

$$\begin{array}{r} 48 - 14 = \\ \hline \end{array}$$

$$\begin{array}{r} 78 + 6 = \\ \hline \end{array}$$

$$\begin{array}{r} 65 - 58 = \\ \hline \end{array}$$

$$\begin{array}{r} 27 + 67 = \\ \hline \end{array}$$

 Izračunaj. Rezultate poišči v sliki in poveži točke po vrsti. Dobil boš...

$$\begin{array}{r} \textcircled{1} \quad 47 \\ + 42 \\ \hline \end{array}$$

$$\begin{array}{r} \textcircled{2} \quad 56 \\ + 42 \\ \hline \end{array}$$

$$\begin{array}{r} \textcircled{3} \quad 73 \\ - 31 \\ \hline \end{array}$$

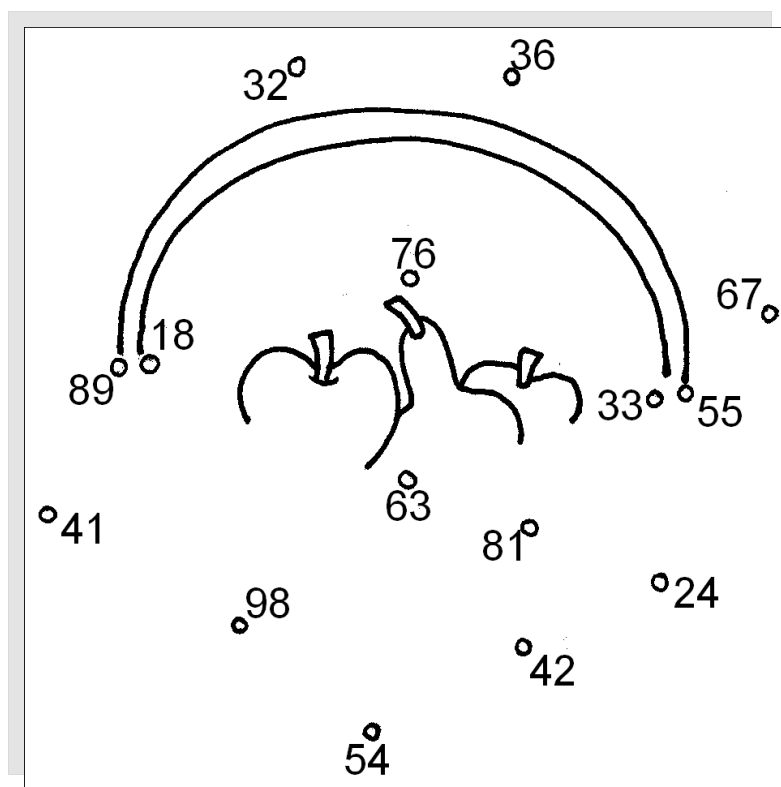
$$\begin{array}{r} \textcircled{4} \quad 92 \\ - 37 \\ \hline \end{array}$$

$$\begin{array}{r} \textcircled{5} \quad 24 \\ + 19 \\ + 33 \\ \hline \end{array}$$

$$\begin{array}{r} \textcircled{6} \quad 57 \\ - 39 \\ \hline \end{array}$$


$$\begin{array}{r} \textcircled{7} \quad 28 \\ + 35 \\ \hline \end{array}$$

$$\begin{array}{r} \textcircled{8} \quad 84 \\ - 51 \\ \hline \end{array}$$





Izračunaj. Rezultate poišči v tabeli in pobarvaj črke pod rezultati. Izvedel boš, kaj bi moral jesti vsak dan.



41	40	8	80	9	10	7	4	2	3	27	6	42	24
V	Z	E	K	L	O	E	N	J	M	A	V	A	S



Reši naloge. Rezultati so napisani na jabolkih in paradižnikih. Obkroži vse, ki so pravilni.

- a) Branjevki Mica in Fani sta prodajali sadje. Mica je prodala 9 krat po 2 kg jabolk, Fani pa 6 krat po 3 kg jabolk. Koliko jabolk sta prodali skupaj?

Račun: _____

Rezultati

- b) V restavraciji Nebotičnik so prodali veliko zrezkov. Na dan so naredili 42 dunajskih zrezkov, 33 naravnih zrezkov v smetanovi omaki in 14 zrezkov z gobami. Koliko zrezkov so prodali v enem dnevu?

Račun: _____

- c) Na tržnico so pripeljali 98 kg paradižnikov. Kupci so v istem dnevu pokupili 75 kg. Koliko kg paradižnikov je ostalo ob koncu dneva?

Račun: _____

