

Ime in priimek:

Šola:

Število točk:



Izračunaj račune. Črko ob računu prepisi k ustreznemu rezultatu v kvadratu. Če si pravilno izračunal, boš izvedel drugo ime hudo nalezljive bolezni srednjega veka.

$$\begin{array}{r} 2215 \\ + 1234 \\ \hline \end{array}$$

T

$$\begin{array}{r} 7599 \\ - 6411 \\ \hline \end{array}$$

R

$$\begin{array}{r} 2624 \\ + \square \\ \hline 5813 \end{array}$$

A

$$\begin{array}{r} 8621 \\ + 299 \\ \hline \end{array}$$

M

$$\begin{array}{r} 6431 \\ - 1562 \\ \hline \end{array}$$

N

$$\begin{array}{r} 6543 \\ - \square \\ \hline 2414 \end{array}$$

R

$$\begin{array}{r} 2650 \\ + 614 \\ \hline \end{array}$$

S

$$\begin{array}{r} 10000 \\ - 9231 \\ \hline \end{array}$$

Č

KUGA ali

769	4129	4869	3189

3264	8920	1188	3449



Spremeni mere. Pobarvaj polja s pravilnimi rezultati. Če si mere pravilno spremenil, boš izvedel, katera žival je bila pogosto na jedilniku grajske gospode.

318 m = _____ dm

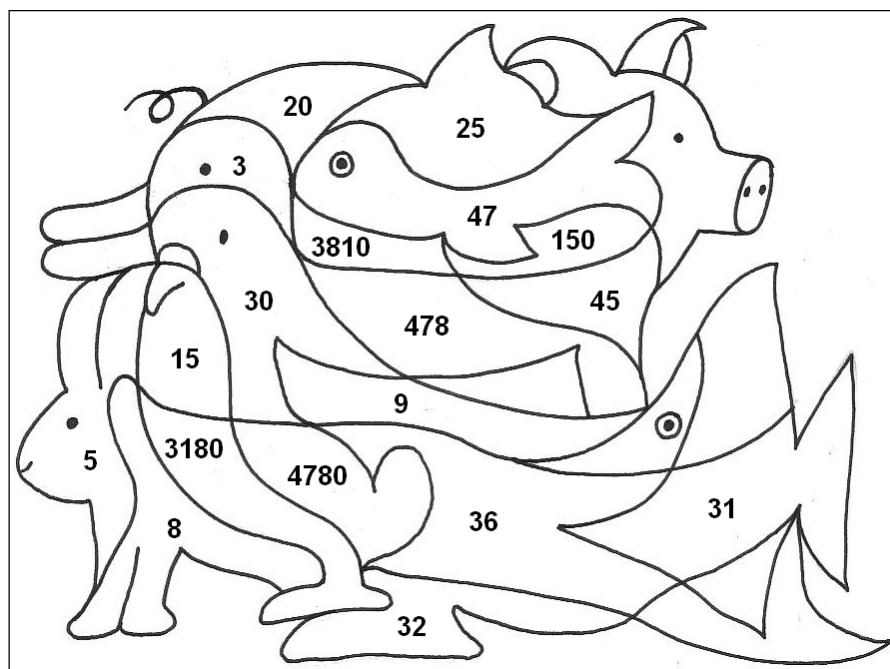
63 dni = _____ tednov

478 l = _____ dl

junij ima _____ dni

3 dm 6 cm = _____ cm

četrt ure je _____ minut





Izračunaj račune. Rezultate po vrsti poveži. Dopolnil boš srednjeveško glasbilo lutnjo.

① 214 · 8

② 56 : 8 = _____

③ 810 : 90 = _____

④ 491 · 4

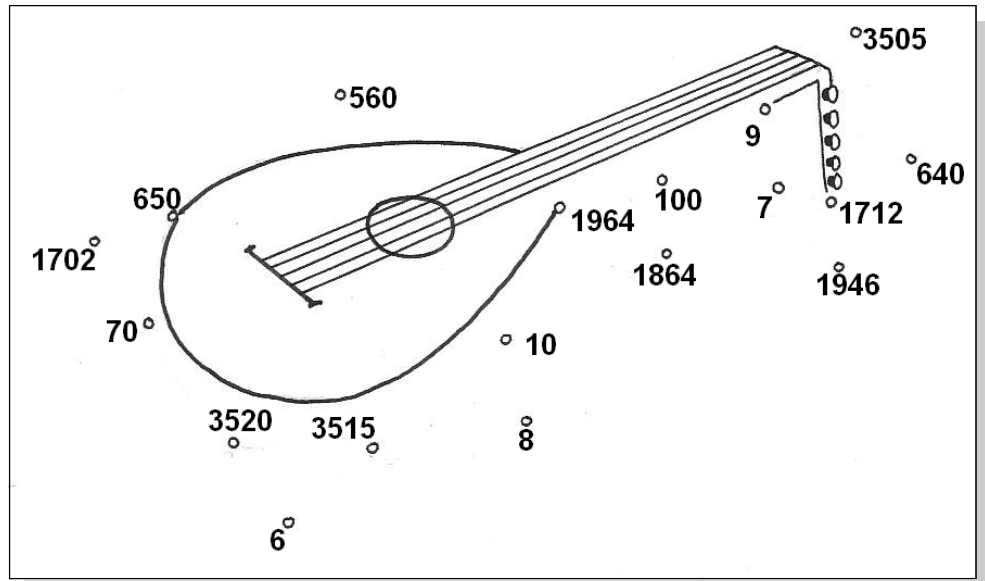
⑤ 200 : 20 = _____

⑥ 703 · 5

⑦ 880 · 4

⑧ 490 : 7 = _____


⑨ 325 · 2



Reši račune. Rezultati so napisani pod sličicami. Pravilne obkroži.

- A) Na prireditvi viteških iger se je prvi dan bojevalo 560 vitezov. Drugi dan se je na isti prireditvi bojevalo 8-krat manj vitezov. Koliko vitezov se je bojevalo drugi dan?

Račun: _____

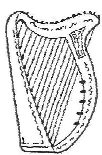


- B) V muzeju Škofje Loke so naredili razstavo srednjeveških glasbil. Razstava je trajala tri dni. Prvi dan je bilo na razstavi 199 glasbil, drugi dan so jih razstavili še 1036. Ob koncu razstave je bilo vseh srednjeveških glasbil 2366. Koliko glasbil so razstavili tretji dan?

Račun: _____

- C) V prvem nadstropju muzeja hranijo 231 predmetov srednjega veka. V drugem nadstropju istega muzeja pa 3-krat več predmetov kot v prvem nadstropju. Koliko predmetov srednjega veka hranijo v muzeju?

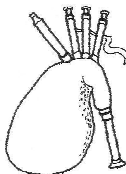
Račun: _____




924




1235



1325



1131



70