

Ime in priimek:

Šola:

Število točk:



Izračunaj račune. Rezultate po vrsti poveži. Dobil boš panjsko končnico.

$$\begin{array}{r} 1 \quad 325 \\ + 572 \\ \hline \end{array}$$

$$\begin{array}{r} 2 \quad 738 \\ - 521 \\ \hline \end{array}$$

$$\begin{array}{r} 3 \quad 459 \\ + 362 \\ \hline \end{array}$$

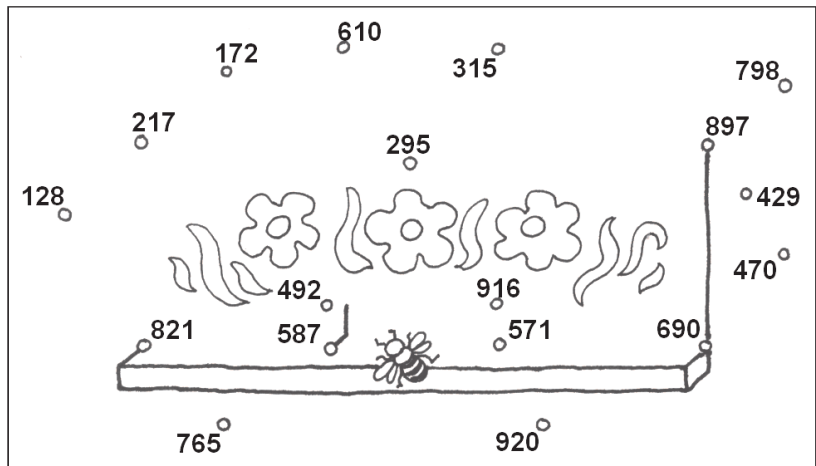
$$\begin{array}{r} 4 \quad 850 \\ - 263 \\ \hline \end{array}$$

$$\begin{array}{r} 5 \quad 985 \\ - 493 \\ \hline \end{array}$$

$$\begin{array}{r} 6 \quad 862 \\ + 54 \\ \hline \end{array}$$

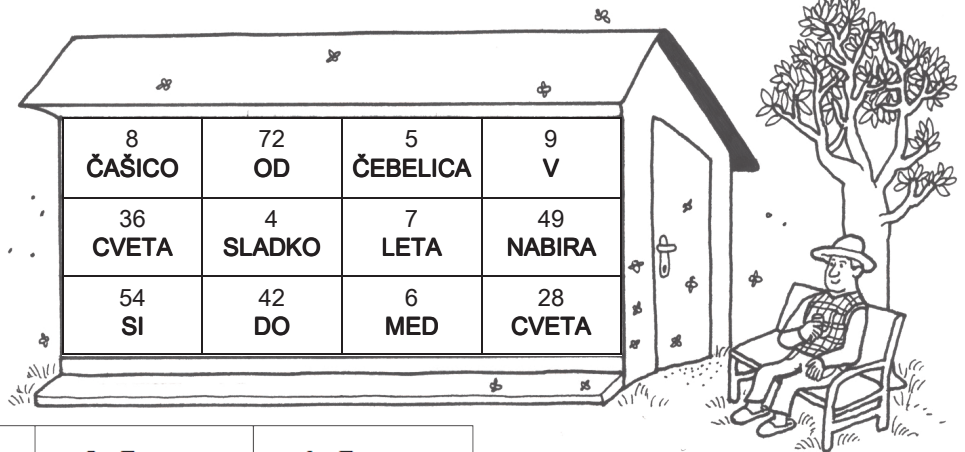
$$\begin{array}{r} 7 \quad 783 \\ - 212 \\ \hline \end{array}$$

$$\begin{array}{r} 8 \quad 454 \\ + 236 \\ \hline \end{array}$$





Na čebelnjaku je napisana pesmica Janeza Bitenca, Od cveta do cveta. Besede so pomešane. Izračunaj račune. Besede, napisane na čebelnjaku, zapiši pod pravi račun.



$8 \cdot 9 = \underline{\quad}$	$4 \cdot 9 = \underline{\quad}$	$6 \cdot 7 = \underline{\quad}$	$4 \cdot 7 = \underline{\quad}$
---------------------------------	---------------------------------	---------------------------------	---------------------------------

$\underline{\quad} \cdot 6 = 30$	$\underline{\quad} \cdot 8 = 56$	$\underline{\quad} \cdot 7 = 63$	$48 : 6 = \underline{\quad}$
----------------------------------	----------------------------------	----------------------------------	------------------------------

$32 : 8 = \underline{\quad}$	$\underline{\quad} : 7 = 7$	$\underline{\quad} : 9 = 6$	$6 \cdot \underline{\quad} = 36$
------------------------------	-----------------------------	-----------------------------	----------------------------------



Spremeni mere. Rezultate poišči v tabeli in pobarvaj črke nad pravilnimi rezultati. Če si pravilno spreminjal, boš dobil ime za sladko tekočino, ki tekne čebelarjem.

- a) 8 l = _____ dcl
- b) 4 m 9 dm = _____ dm
- c) 2 leti = _____ mesecev
- č) 6 min = _____ s
- d) 9 kg = _____ dag
- e) 5 tednov = _____ dni



O	N	P	E	K	R	M	T	L	D	A	R
800	80	94	49	24	12	60	360	9	25	900	35



Reši besedilne naloge. Rezultati so napisani na čebelarjevih pripomočkih. Nepravilnega prečrtaj!


- A) Mama je imela 18 kozarcev medu. Kozarce je spravila v shrambo. Vsakič je nesla po 3 kozarce. Kolikokrat je morala iti v shrambo, da je pospravila vse?

Račun: _____



- B) Na travniku je letalo 9 čebel. V vsakem čebeljem kožuščku so bile po 4 čebelne muhe, ki ropajo med. Koliko je bilo vseh čebelnih muh?

Račun: _____



- C) Čebelar je pridelal 345 l medu. 256 l ga je prodal. 33 l ga je razdelil prijateljem. Koliko medu mu je še ostalo?

Račun: _____

